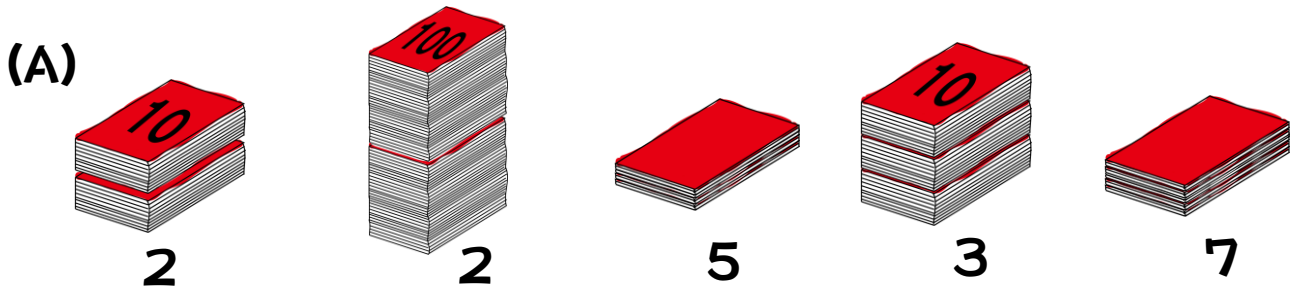


### 100いじょうの数&とうごうふとうごう



君はボスに正しく数をつたえなくてはいけない。  
きちんと正しくつたえられるかな？


(1) 本のたばがおいてあった。10と書かれているのは10さつのたば、100と書かれているのは100さつのたば、何も書いていないのは1さつずつ置いてあるよ。



Q, ぜんぶでなんさつ？

A, 262 さつ

$$20 + 200 + 5 + 30 + 7 = 262$$



Q, ぜんぶでなんさつ？

A, 323 さつ

$$300 + 10 + 8 + 5 = 323$$

(2) (A)と(B)はどちらが多い？ ><をつかって答えなさい。

262

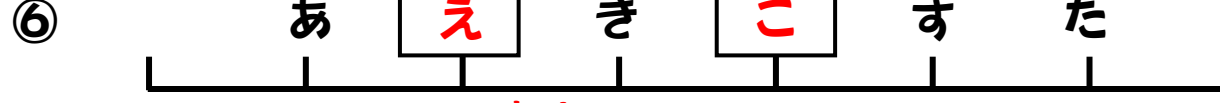
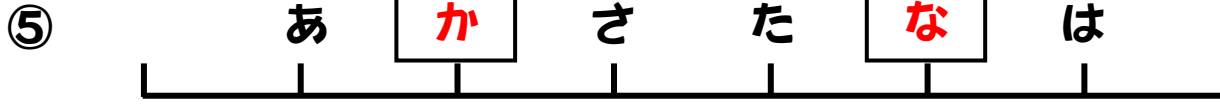
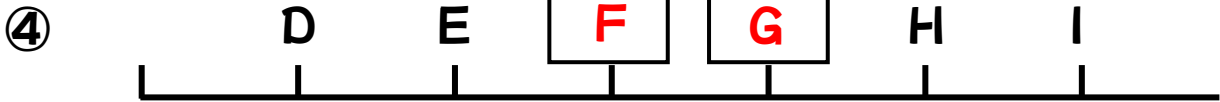
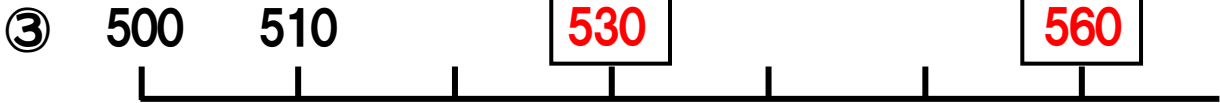
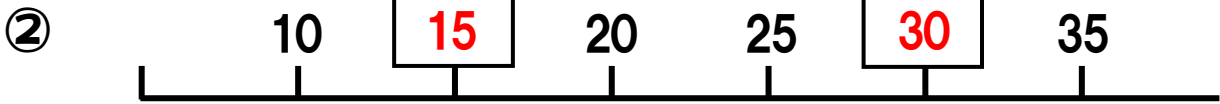
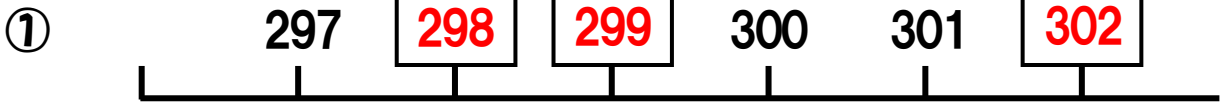
323

A, (A) ( < ) (B)

# ものさし



ひらメーターのふしぎなメーター(ものさし)を  
かんせいさせてください!



いう    おか    くけ    さし    せそ

※一定の目盛りの法則を見つけるようにしましょう