

### ① おかしをグラフに分けてみよう







5			
4	○		
3	○	○	
2	○	○	○
1	○	○	○
	あめ 	ドーナツ 	せんべい 
	4 こ	3 こ	2 こ

おかしはぜんぶでいくつ？

9 こ

## ② のりものをグラフに分けてみよう



5		○ ○ ○ ○	
4	○ ○	○ ○ ○ ○	
3	○ ○	○ ○ ○ ○	
2	○ ○	○ ○ ○ ○	○ ○ ○ ○
1	○ ○	○ ○ ○ ○	○ ○ ○ ○
	じてんしゃ 	くるま 	バス 
	4 だい	5 だい	2 だい

ここはタイヤの数を分けやすくするための記入もさせる。

ぜんぶでなんだい？

11 だい

ぜんぶでタイヤはいくつ？

36 こ